



## CONCURSO PÚBLICO 01/2017 CADERNO DE PROVA CARGO: FISCAL DE TRIBUTOS

1. Os telefones celulares e outros equipamentos eletrônicos deverão ser desligados antes do início da prova;
2. Você está recebendo um caderno de provas com 30 questões de múltipla escolha, com 4 alternativas de respostas cada, sendo que apenas 1 alternativa estará correta;
3. Para a realização da Prova Escrita, o candidato deverá utilizar apenas caneta esferográfica, de tinta azul ou preta;
4. Verifique se o caderno de provas está completo, sem falhas de impressão e se a quantidade de questões está de acordo com o informado acima. Confira também se sua prova corresponde ao cargo para o qual você se inscreveu. Caso haja qualquer divergência, comunique o fato ao fiscal imediatamente;
5. Além do caderno você está recebendo um cartão resposta, complete as informações e assine o cartão;
6. Você deverá transcrever as respostas das questões objetivas para o cartão resposta, que será o único documento válido para a correção das provas. O preenchimento do cartão resposta é de inteira responsabilidade do candidato. Este cartão **não** será substituído em caso de erro do candidato;
7. Durante a realização das provas é vedada a consulta a livros, revistas, folhetos ou anotações, bem como, o uso de máquinas de calcular, relógios e aparelhos celulares, ou ainda, qualquer equipamento elétrico ou eletrônico, sob pena de eliminação do candidato do concurso público;
8. No decurso da Prova o candidato somente poderá ausentar-se temporariamente da sala se acompanhado por um fiscal.
9. Você terá 3 horas para a realização da prova, incluindo o tempo para preenchimento do cartão-resposta.
10. O candidato somente poderá retirar-se definitivamente da sala de Prova após 60 minutos de seu início.
11. Os 3 últimos candidatos de cada sala somente poderão entregar as suas provas e retirar-se definitivamente do local simultaneamente, depois de haver rubricado o verso de todos os cartões resposta, bem como, o envelope lacrado contendo todos os cartões resposta da sala.
12. Para o PREENCHIMENTO DO CARTÃO RESPOSTA marque somente uma alternativa preenchendo totalmente o círculo, evitando ultrapassar a linha que margeia a letra. Não faça um X ou qualquer outra marca.

**OBS: Você pode destacar esta folha. Utilize o verso para fazer suas anotações.**



# MUNICÍPIO DE PERITIBA, SC





PORTUGUÊS (6)

1. Observe a figura abaixo:



Sobre o uso correto das palavras “Sessão, Seção e Cessão”, complete as lacunas nas frases abaixo com a palavra correta.

- I. A \_\_\_\_\_ da câmara de vereadores terá como objetivo aprovar ou não a nova lei.
- II. No supermercado os sabonetes se encontram na \_\_\_\_\_ de limpeza.
- III. Seu Paulo confirmou a \_\_\_\_\_ de suas roupas para a campanha do agasalho realizada pela Prefeitura.
- IV. Vamos assistir à próxima \_\_\_\_\_ desse filme?

A sequencia correta é:

- a) I. Seção II. Sessão III. Cessão IV. Sessão;
- b) I. Cessão II. Sessão III. Sessão IV. Seção;
- c) I. Sessão II. Seção III. Cessão IV. Sessão;
- d) I. Sessão II. Cessão III. Seção IV. Sessão;

2. O emprego de “Trás ou Traz” geralmente causa dúvidas na linguagem escrita, pois na falada não há uma maneira exata de saber qual dos dois termos está sendo utilizado.

Neste contexto, julgue as frases abaixo:



- I. Ela olhou para **trás** e viu a mãe.
- II. O professor **traz** as provas dentro da pasta.
- III. Ele estava por **traz** disso tudo desde o começo.

Pode-se afirmar que “traz ou trás” está sendo empregado de forma correta:

- a) Nas frases I e II apenas;
- b) Nas frases I e III apenas;
- c) Nas frases II e III apenas;
- d) Em todas as frases;



3. Observe as orações abaixo:

- I. O livro está **em cima** da cama.
- II. O livro estava **sobre** a carteira.

Pode-se afirmar que as palavras em destaque (em cima – sobre) são respectivamente classificadas como:

- a) Locução adverbial – Preposição;
- b) Preposição – Preposição;
- c) Locução adjetiva – Preposição;
- d) Preposição – Locução adverbial;

4. Leia o texto abaixo e depois responda o que se pede:

### “O cão e a carne”

Um cão vinha caminhando com um pedaço de carne na boca.  
Quando passou ao lado do rio, viu sua própria imagem na água.  
Pensando que havia na água um novo pedaço de carne, soltou o que carregava para apanhar o outro.  
O pedaço de carne caiu na água e se foi, assim como a sua imagem.  
E o cão, que queria os dois, ficou sem nenhum.

Autor: Esopo



Qual das lições abaixo poderia ser retirada do texto?

- a) O trabalho é a fonte de todas as riquezas.
- b) Quem tudo quer tudo perde.
- c) Quem vê cara, não vê coração.
- d) Quem muito fala, pouco acerta.

5. Analise as palavras abaixo e assinale aquela em que o “ç” está empregado de forma incorreta.

- a) Importação;
- b) Redação;
- c) Expansão;
- d) Eleição;

6. Complete as lacunas da oração abaixo:

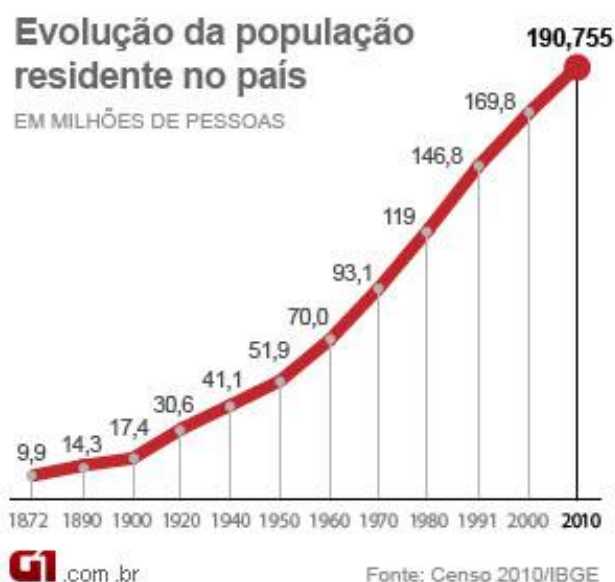
- Seu Mário foi embora \_\_\_\_\_ já estava esperando \_\_\_\_\_ muito tempo para ser atendido.

- a) Porque – a;
- b) Por que – há;
- c) Por que – a;
- d) Porque – há;



## RACIOCÍNIO LÓGICO E MATEMÁTICA (5)

7. Seu Paulo é produtor de vinho, ele guarda sua produção em dois tipos de garrafa: de 600 ml e de 1,5 litros. Sabe-se que no último mês ele produziu 150 litros de vinho e que após engarrafar o mesmo juntou um total de 130 garrafas. Seu Paulo vende uma garrafa de 600 ml por R\$ 11,50 e de 1,5 litros por R\$ 24,00. Se seu Paulo vender todas as garrafas de 600 ml quanto vai receber?
- a) R\$ 468,00  
b) R\$ 523,50  
c) R\$ 575,00  
d) R\$ 635,50
8. Marcos é funcionário público e recebe por mês de salário o valor de R\$ 1.716,66. Sabe-se que deste valor o banco desconta 36% para o pagamento do financiamento da casa própria. Quanto sobra do salário após este desconto?
- a) R\$ 1.214,66  
b) R\$ 1.112,66  
c) R\$ 1.098,66  
d) R\$ 617,66
9. Sabe-se que um veículo percorre uma distância de 51 km em 45 minutos. Se este veículo se deslocar com a mesma velocidade por uma hora, qual será a distância percorrida?
- a) 72 km;  
b) 68 km;  
c) 65 km;  
d) 60 km;
10. Tendo como referência o gráfico julgue as afirmações abaixo.



- I. Entre os anos de 1920 e 1980 a população do país cresceu em 88,4 milhões de pessoas.  
II. Entre os anos de 1960 e 1980 a população do país cresceu na ordem de 70%.



Pode-se afirmar que:

- a) Somente a afirmação I está correta;
- b) Somente a afirmação II está correta;
- c) As afirmações I e II estão corretas;
- d) As afirmações I e II estão incorretas;

11. João resolveu economizar dinheiro, por isso, guardou no primeiro mês R\$100,00 reais, no segundo mês guardou R\$150,00 reais, no terceiro mês guardou R\$200,00 reais e assim sucessivamente durante três anos. Qual a quantia total que João obteve no final dos três anos guardando dinheiro mensalmente?

- a) R\$1.200,00
- b) R\$1.850,00
- c) R\$ 35.100,00
- d) R\$43.000,00

## INFORMÁTICA (4)

“As teclas de atalho, são um modo rápido de, com uma combinação de tecla, executar alguma função de forma a não termos que tirar a mão do teclado e usar o mouse nos menus para procurar uma função. Se ela é usada freqüentemente então, fica muito mais rápido lembrarmos-nos da combinação de tecla. O mouse muitas vezes acaba "atrasando" nosso trabalho!”

**Neste contexto responda as questões 12 e 13.**

12. Marcelo após digitar um texto no Microsoft Word do Windows pediu para salva-lo, para tal utilizou teclas de atalho. Assinale a alternativa que apresenta as teclas pressionadas por Marcelo.

- a) Ctrl B;
- b) Ctrl P;
- c) Ctrl S;
- d) Ctrl M;

13. Após salvar o texto no Microsoft Word do Windows Marcelo mandou este para impressão, para tal utilizou teclas de atalho. Assinale a alternativa que apresenta as teclas pressionadas por Marcelo.

- a) Ctrl B;
- b) Ctrl P;
- c) Ctrl I;
- d) Ctrl M;

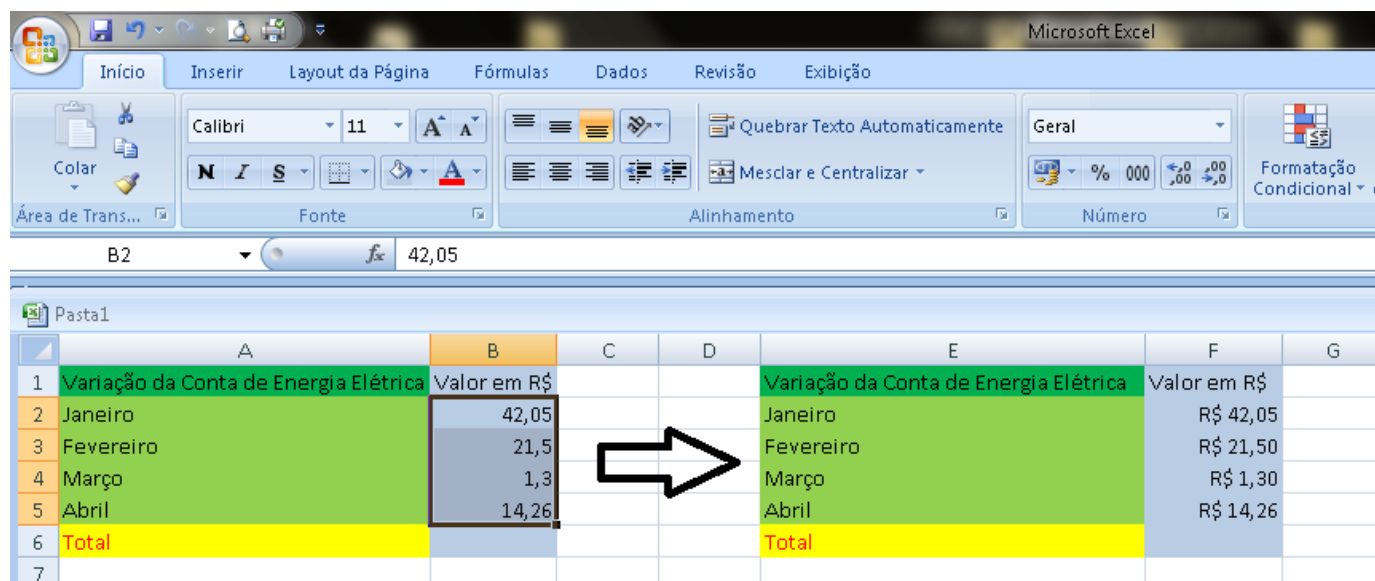
**Utilize o contexto abaixo para responder as questões 14 e 15.**

Marcos construiu a planilha abaixo no Microsoft Excel do Windows, sendo que nesta planilha procurou retratar a variação da conta de Energia Elétrica durante os quatro primeiros meses do ano.

Varição da Conta de Energia Elétrica	Valor em R\$
Janeiro	42,05
Fevereiro	21,5
Março	1,3
Abril	14,26
<b>Total</b>	



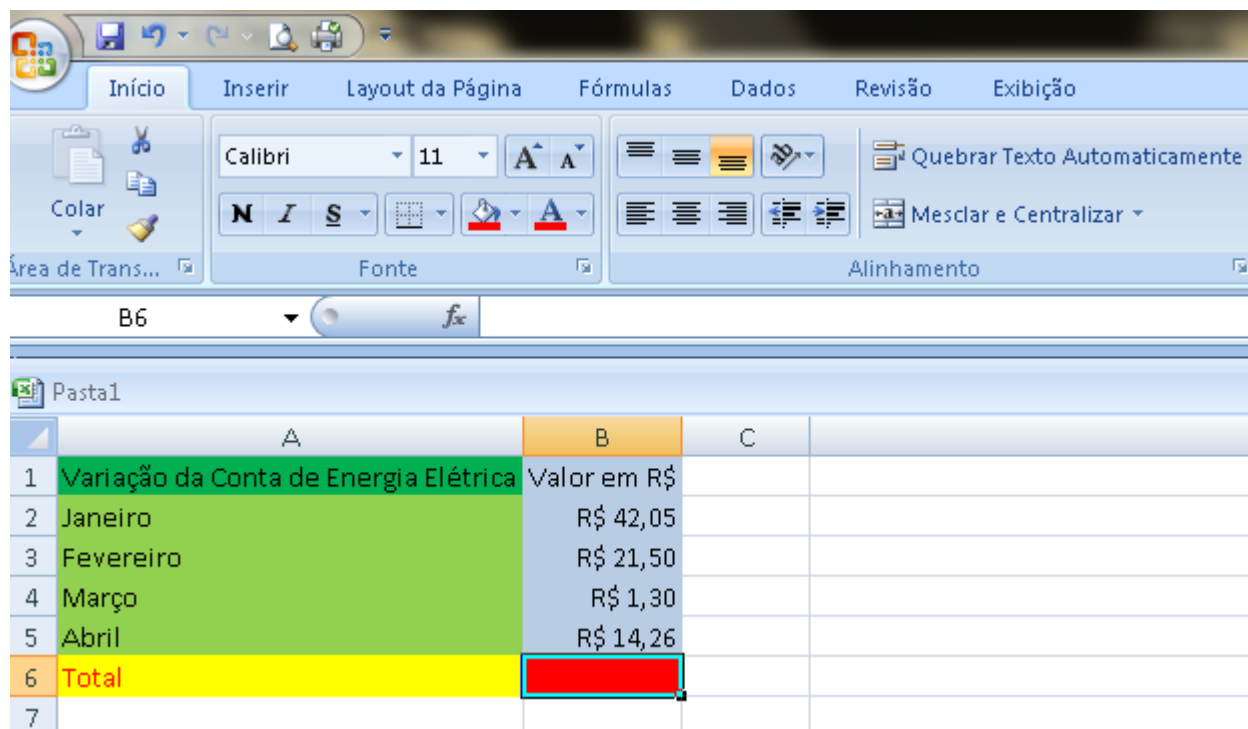
14. Após concluir a digitação Marcos utilizou uma combinação de teclas para incluir os dígitos monetários R\$ antes dos valores numéricos.



Pode-se afirmar que após selecionar os valores numéricos Marcos utilizou a combinação de teclas:

- a) Alt + \$
- b) Ctrl + \$
- c) Shift + \$
- d) Ctrl + Shift + \$

15. Para realizar a soma automática dos valores, qual deve ser a equação digitada por Marcos na célula selecionada?





- a) =SOMA(B2:B5)
- b) (B2+B5)
- c) +(B2:B5)
- d) =SOMA(B2+B5)

### CONHECIMENTOS GERAIS (5)

16. Observe o recorte de notícia abaixo:

#### **Ataque terrorista em Barcelona: o que se sabe e o que falta esclarecer**

Uma van foi usada para atropelar várias pessoas em La Rambla, via que fica em uma das regiões mais turísticas de Barcelona, na Espanha, nesta quinta-feira (17/08). De acordo com informações oficiais, pelo menos 13 pessoas morreram em Barcelona e 130 ficaram feridas. Um atropelamento em Cambrils, horas depois do ataque em Barcelona, matou uma mulher, natural da Espanha.

Disponível em <http://g1.globo.com/mundo/noticia/ataque-terrorista-em-barcelona-o-que-se-sabe-e-o-que-falta-esclarecer.ghtml>

A capital da Espanha é:

- a) Barcelona;
- b) Madri;
- c) Sevilha;
- d) Málaga;

17. Leia a notícia abaixo e depois responda o que se pede.

#### **Começa campanha de arrecadação para projeto de Memorial às Vítimas da Kiss**

Projeto será custeado por financiamento coletivo. Quem quiser contribuir, deve acessar a plataforma de arrecadação.

A construção do Memorial às Vítimas da Kiss, para lembrar dos 242 mortos no incêndio da boate em \_\_\_\_\_ em 2013, terá financiamento coletivo. A arrecadação inicia nesta segunda-feira (21), com o lançamento de uma campanha para levantar os fundos.

Um evento na Praça Saldanha Marinho, no centro da cidade, marcará o início da campanha, às 10h. A captação de recursos deve ocorrer até outubro. A iniciativa é da Associação dos Familiares de Vítimas e Sobreviventes da Tragédia.

Quem desejar fazer sua contribuição já no local poderá utilizar um dos quatro computadores disponibilizados na Praça Saldanha Marinho ou pelo celular, utilizando a internet wi-fi que será disponibilizada gratuitamente.

Também estão previstas apresentações artísticas e musicais do Coral Illumina, formado por alunos da Escola Municipal de Ensino Fundamental Duque de Caxias, do cantor Beto Pires e do projeto Orquestrando Arte.

Disponível em: <http://g1.globo.com/rs/rio-grande-do-sul/noticia/comeca-campanha-de-arrecadacao-para-projeto-de-memorial-as-vitimas-da-kiss.ghtml>.

A cidade onde aconteceu o incêndio em 2013 é:





- a) Duque de Caxias;
- b) Porto Alegre;
- c) Passo Fundo;
- d) Santa Maria;

18. Mesa Diretora é o órgão de direção da Câmara de Vereadores, a ela cabem as tarefas administrativas e executivas. Entre as principais funções vale destacar a direção dos trabalhos legislativos e dos serviços administrativos da Câmara, destacando-se os atos de Direção, Administração e Execução das deliberações aprovadas em Plenário.

Para o ano de 2017 foi eleito como presidente da mesa diretora da câmara de vereadores de Peritiba(a) senhor(a):

- a) Ozair Vieira de Brito;
- b) Gilberto Maciel;
- c) Cleu Simon;
- d) Ivete Finger;

19. Dos nomes listados abaixo todos já foram prefeitos de Peritiba, exceto:

- a) Neusa Klein Maraschini;
- b) Arnildo Simon;
- c) Antônio Zamarchi;
- d) LeonestoCavasin;

20. Leia a notícia abaixo e depois responda o que se pede.

### **Crise de refugiados: número de pessoas forçadas a se deslocar dos seus países é o maior da história.**

Todos os dias, dezenas de pessoas deixam tudo que têm para trás. Elas entram num barco clandestino, muitas vezes arriscando suas vidas, para atravessar o Mar Mediterrâneo rumo à Europa. Em outro ponto, no Oriente Médio, famílias vivem em acampamentos improvisados e em edifícios destruídos, e na África, muitos vagam sem destino, procurando um lugar seguro.

A guerra civil \_\_\_\_\_, que desde 2011 já fez mais de 500 mil mortos, continua fazendo com que o país seja o local de origem da maior parte dos refugiados (5,5 milhões) e deslocados (6,3 milhões) do mundo. A guerra começou com protestos de rua contra o governo e se transformou num conflito armado. Desde o seu estopim, ela já provocou a saída de mais da metade da população do país, uma situação de calamidade.

Disponível em <https://vestibular.uol.com.br/resumo-das-disciplinas/atualidades/crise-de-refugiados-numero-de-pessoas-forçadas-a-se-deslocar-dos-seus-paises-e-o-maior-da-historia.htm?cmpid=>

O nome do país que completa corretamente a lacuna no texto é:

- a) Na Síria;
- b) No Afeganistão;
- c) No Iraque;
- d) Na Palestina;



## LEGISLAÇÃO E CONHECIMENTOS ESPECÍFICOS (10)

21. Segundo a Lei Orgânica do Município de Peritiba, em seu Capítulo II, Art. 8º, Ao Município compete prover a tudo quanto diga respeito ao seu peculiar interesse e ao bem-estar da população, cabendo-lhe, entre outras, as seguintes atribuições, exceto:

- a) Elaborar o plano plurianual, a lei de diretrizes orçamentárias e orçamento anual, prevendo a receita e fixando a despesa, com base em planejamento adequado;
- b) Instituir e arrecadar os tributos de sua competência, fixar e cobrar preços;
- c) Arrecadar e aplicar as rendas que lhe pertencem, na forma da lei;
- d) Estabelecer cultos religiosos ou igrejas, subvencioná-los, embaraçar-lhes o funcionamento ou manter com eles ou seus representantes relações de dependência ou aliança.

22. Ainda tratando sobre o Capítulo II da Lei Orgânica do Município de Peritiba, em seu Art. 8º, assinale V para Verdadeiro e F para Falso, no que refere-se a sua competência:

- ( ) Prover sobre o transporte coletivo urbano, que poderá ser operado através da concessão ou permissão, fixando o itinerário, os pontos de parada e as respectivas tarifas;
- ( ) Prover sobre o transporte individual de passageiros, fixando os locais de estacionamento e as tarifas respectivas;
- ( ) Disciplinar os serviços de carga e descarga e fixar a tonelagem e a velocidade máxima permitida a veículos que circularem em vias públicas municipais;
- ( ) Dispor sobre registro, vacinação e captura de animais;

Assinale a sequencia correta de cima para baixo:

- a) V, F, F e V;
- b) V, V, V e F;
- c) F, V, V e V;
- d) V, V, V e V.

23. O Art. 19 da Lei Orgânica do Município de Peritiba trata sobre os princípios constitucionais, a onde qualquer dos poderes do Município deverá obedecer. Assinale a alternativa correta:

- a) Princípio da Legalidade, Impessoalidade, Moralidade, Publicidade e Eficiência;
- b) Princípio Democrático, Republicano, Federativo e Legalidade;
- c) Princípio a Soberania, Cidadania, Dignidade da Pessoa Humana e ao Pluralismo Político;
- d) Princípio a Independência Nacional, Prevalencia dos Direitos Humanos e Defesa da Pás.

24. Segundo o Art. 22 da Lei Orgânica do Município de Peritiba, os atos administrativos de competência do Prefeito, dar-se-ão por **Decreto**, de acordo com as alternativas abaixo, exceto no caso da alternativa?

- a) Para regulamentação de Lei;
- b) Para abertura de credito extraordinário
- c) Para criação de comissões e designação de seus membros;
- d) Para fixação e alteração dos preços dos serviços públicos prestados pelo Município, e aprovação dos preços dos serviços concedidos ou autorizados;



25. O Artigo 28, § 2º da Lei Orgânica do Município de Peritiba, trata sobre os direitos dos servidores municipais. Identifique a alternativa incorreta:
- a) Irredutibilidade de vencimentos, salvo o disposto em convenção ou acordo coletivo;
  - b) Duração do trabalho normal não superior a doze horas diárias e sessenta semanais;
  - c) Abono natalino com base na remuneração integral ou no valor dos proventos de aposentadoria;
  - d) Remuneração dos serviços extraordinários superior, no mínimo, em cinquenta por cento do normal.
26. A Lei 10.297 de 26 de dezembro de 1996, institui no Estado de Santa Catarina qual dos tributos abaixo:
- a) Imposto sobre a Prestação de Serviço de Qualquer Natureza;
  - b) Imposto sobre Operações Relativas a Circulação de Mercadorias e Sobre Prestação de Serviços de Transporte Interestadual e Intermunicipal e de Comunicação;
  - c) Imposto sobre Veículos Automotores;
  - d) Imposto sobre a Transferência de Bens Imóveis.
27. Para fins tributários federais no Brasil, a apuração dos impostos pode ser feita conforme alternativas abaixo, exceto:
- a) Pelo Lucro Real;
  - b) Pelo Lucro Presumido;
  - c) Pelo Simples Nacional;
  - d) Pela Substituição Tributária.
28. Segundo o Código Tributário Nacional, em seu Art. 3º, tributo é toda prestação pecuniária compulsória, em moeda ou cujo valor nela se possa exprimir, que não constitua sanção de ato ilícito, instituída em lei e cobrada mediante atividade administrativa plenamente vinculada. Desta forma, identifique dentre as alternativas, a que não refere-se a um tributo municipal:
- a) Imposto sobre Propriedade Territorial Rural;
  - b) Imposto Sobre Serviços de Qualquer Natureza;
  - c) Imposto sobre Propriedade Predial e Territorial Urbana;
  - d) Imposto sobre Transmissão de Bens e Imóveis Inter vivos.
29. O imposto, de competência dos Municípios, sobre a propriedade predial territorial urbana tem como fato gerador:
- a) A propriedade, o domínio útil ou a posse de imóvel por natureza, como definido na lei civil, localização fora da zona urbana do Município;
  - b) A transmissão, a qualquer título, da propriedade ou do domínio útil de bens imóveis por natureza ou por acessão física, como definidos na lei civil;
  - c) A propriedade, o domínio útil ou a posse de bem imóvel por natureza ou por acessão física, como definido na lei civil, localizado na zona urbana do Município;
  - d) A aquisição da disponibilidade econômica ou jurídica de renda, assim entendido o produto do capital, do trabalho ou da combinação de ambos.



30. Assinale a alternativa correta, no que tange o Art. 113 do Código Tributário Nacional, a obrigação tributária é principal ou acessória, ainda:

- a) A obrigação principal surge com a ocorrência do fato gerador, tem por objeto o pagamento de tributo ou penalidade pecuniária e extingue-se juntamente com o crédito dela decorrente;
- b) A obrigação acessória decorre da legislação tributária e tem por objeto as prestações, positivas ou negativas, nela previstas no interesse da arrecadação ou da fiscalização dos tributos;
- c) A obrigação acessória, pelo simples fato da sua inobservância, converte-se em obrigação principal relativamente à penalidade pecuniária;
- d) Todas as alternativas apresentadas estão corretas.